

cher élève , chère élève

J'espère que tu vas bien ainsi que ta famille.

Ce n'est pas toujours facile, en ce moment, de rester à la maison et de ne plus voir tes camarades.

Entre les jeux, les écrans, les livres (j'espère) et, peut-être quelques activités dans le jardin, je t'invite à te sentir un peu comme à l'école mais... en mieux !
Je te propose des exercices de lecture, de conjugaison, de calcul, ...

Pourquoi est-ce mieux qu'à l'école ?

- 1) Tu peux t'installer confortablement.
- 2) Tu peux choisir l'ordre dans lequel tu feras ton travail.
- 3) Tu peux prendre ton temps pour le faire.
- 4) Tu peux boire, prendre une collation. (Attention à ta feuille !)
- 5) Tu peux aller en récréation quand tu le souhaites....

Allez, on y va !

Tu devrais être capable de faire ton travail seul(e) car les exercices sont semblables à ceux faits en classe.
Et quand ta feuille sera terminée ...

6) tu auras la chance de jouer à l'instituteur ou l'institutrice en corrigeant toi-même ton travail !

N'oublie pas de revoir chaque jour tes tables et de lire 10 minutes.

Bon travail

A bientôt
Ton institutrice

Calcul mental : des additions et des soustractions

1. Effectue directement.

$300 + 500 =$

$5 + 600 =$

$628 + 40 =$

$740 + 40 =$

$85 + 910 =$

$84 + \dots = 100$

$\dots + 302 = 309$

$\dots + 320 = 390$

$541 + \dots = 581$

$622 + \dots = 654$

$845 - 20 =$

$658 - 5 =$

$100 - 48 =$

$100 - 26 =$

$758 - 7 =$

$340 - \dots = 240$

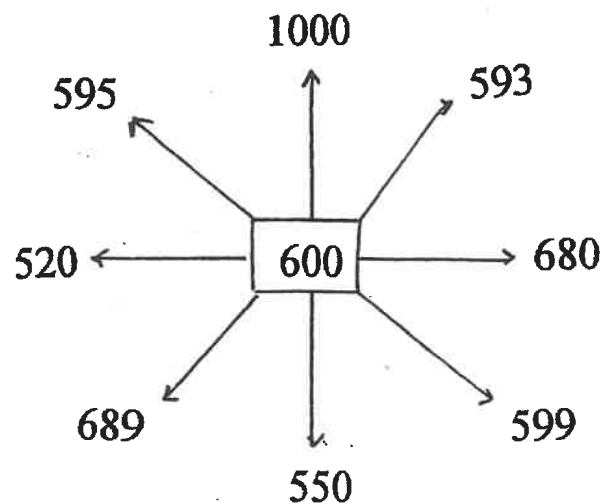
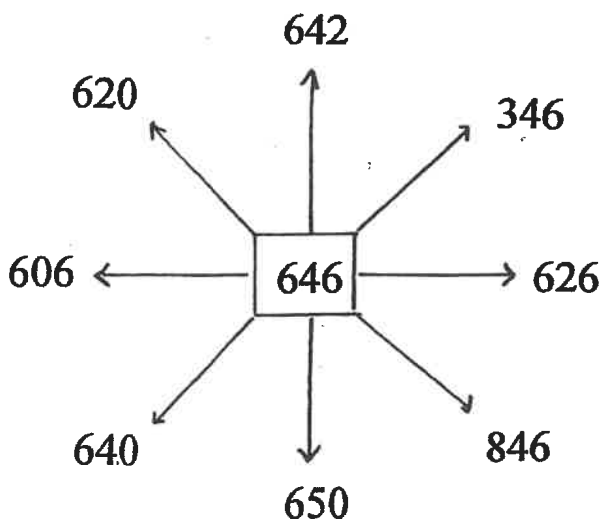
$754 - \dots = 724$

$\dots - 3 = 456$

$\dots - 10 = 325$

$458 - 25 =$

2. Complète.



Opérations : CDU \pm DU avec passage par la centaine et par la dizaine. (voir cahier)

1) $438 + 84 =$ _____

2) $576 + 67 =$ _____

3) $924 - 38 =$ _____

4) $431 - 96 =$ _____

5) $164 + 58 =$ _____

6) $659 + 75 =$ _____

7) $547 - 78 =$ _____

8) $872 - 85 =$ _____

9) $387 + 46 =$ _____

10) $713 - 39 =$ _____

Liens logiques.


4 Karim est allé écouté un concert de musique classique. Le concert a duré 2 heures et s'est terminé à 21 h 30. À quelle heure le concert a-t-il commencé ?




.....
.....
.....
.....

5 Tom regarde la pendule au début et à la fin de son dessin animé préféré. Ecris l'heure qu'il voit indiquée sur l'horloge.

heure de début
du dessin
animé



.....
.....
.....
.....



heure de fin
du dessin
animé

.....
.....
.....
.....


Combien de temps a duré son dessin animé ?

.....
.....

6 Il est 6 h 57. L'avion de Tom décolle à 7 h. Combien de minutes Tom va-t-il encore attendre ?

.....
.....

Le hérisson



Le hérisson est un petit mammifère qui est présent partout dans notre pays.

Son dos est recouvert d'environ 6000 piquants qui poussent et tombent tout le temps, comme nos cheveux. Pendant la journée, il se repose caché au milieu d'un tas de feuilles mortes, à l'abri d'un

buisson ou dans le creux d'un vieux mur.

C'est un animal solitaire qui vit surtout la nuit.

Que mange-t-il ?

Il mange un peu de tout, mais il consomme surtout des vers de terre, des chenilles, des araignées, des limaces, parfois des grenouilles, des lézards, de jeunes rongeurs, des oisillons, des œufs, des cadavres, des fruits et des champignons. Sa ration nocturne est d'environ 70 g.

Est-il menacé de disparaître ?

Dans notre pays, le hérisson n'est pas menacé de disparaître, mais cependant il court souvent de grands dangers. Ainsi, par exemple, la route est la principale cause de mortalité des hérissons qui périssent par centaines, surtout au printemps et en été lorsqu'ils sortent de nuit pour rechercher leur nourriture ou que les mâles se mettent à la recherche des femelles.

Le hérisson, l'ami du jardinier

Le hérisson est l'ami des jardiniers et des cultivateurs, car il se nourrit des petits animaux qui détruisent les cultures. Le jardin ne doit jamais être complètement fermé. Les clôtures ou les murs sans ouverture sont à éviter, car le hérisson aime se déplacer pendant la nuit. Par contre, si le jardin est du côté d'une route, une clôture sans ouverture est à conseiller. Les massifs et les haies de buissons, les tas de feuilles mortes ou de foin rendent un jardin accueillant. Les hérissons y construisent leurs nids. Un abri artificiel peut les inciter à s'installer. Une caisse pleine d'herbe sèche placée à l'envers sous un buisson ou une cavité aménagée dans un empièchement leur convient parfaitement. L'abri doit être à l'ombre, car ils supportent mal la chaleur.

Peut-on le garder en captivité ?


Garder un hérisson en captivité dans un enclos ou dans un jardin est une erreur, car il a besoin de beaucoup d'espace pour bien vivre. Il faut faire attention aux mares de jardin qui sont de vrais pièges pour lui. S'il y a un bassin ou une mare dans le jardin, il faut laisser pendre un bout de grillage dans l'eau. Ainsi, si le hérisson tombe dans le bassin ou la mare, il pourra se hisser hors de l'eau.

Peut-on lui donner du lait ?

On dit que le hérisson aime tellement le lait qu'il va jusqu'à téter une vache allongée dans un champ. En fait, c'est une blague. D'ailleurs le lait est le meilleur moyen de le rendre malade, car il lui donne la diarrhée. L'eau est préférable et il boit d'ailleurs très peu.

Le hérisson en hiver


À la fin de l'automne, quand la nourriture devient rare et dès que la température descend en dessous de 10°C, le hérisson entre en hibernation, c'est-à-dire qu'il s'endort au fond d'un nid d'herbes et de feuilles qu'il aménage dans les fourrés ou sous une souche, dans un tas de bois, sous une haie, sous un tas de foin ou quelquefois dans un terrier de lapin. Un hérisson dort tout l'hiver et est donc incapable de se nourrir. Il passe l'hiver grâce à ses réserves de graisses qu'il a emmagasinées dès la fin de l'été. Sa respiration s'arrête presque complètement et il peut s'écouler plusieurs minutes entre deux respirations. Il se réveille au printemps, vers les mois de mars ou d'avril. À la fin de l'hibernation, les hérissons ont perdu alors 30% de leur poids.



Voici les trois paragraphes d'une histoire. Les phrases de chaque paragraphe sont mélangées. Remets-les dans l'ordre en indiquant un numéro dans les

La maligne petite cane (1)

- Elle se sent en pleine forme. En chemin, elle
- la regarde d'un air gourmand. « Quelle jolie petite cane », se dit
- Ce jour-là, le ciel est tout bleu et le soleil brille. Madame la cane
- rencontre Goupil, le renard qui
- le renard. « Comme elle est appétissante ! Je la croquerais bien. »
- met son beau chapeau, prend son ombrelle et part en promenade.




La maligne petite cane (2)


- quel médicament dois-je prendre pour me soulager ? »
- La petite cane remarque que le renard la regarde avec envie et lui dit :
- même envie de vomir. Selon vous,
- « Monsieur Goupil, quel plaisir de vous rencontrer.
- aujourd'hui ; j'ai dû avaler un ver de terre pas très frais. J'ai
- Vous qui êtes si intelligent, peut-être
- pourriez-vous me conseiller. Je me sens très mal

La maligne petite cane (3)

- rentre chez elle, toute contente du bon tour qu'elle
- « Quelle horreur ! » s'écrie le renard. « Si je
- malade aussi. Rentre chez toi,
- vient de jouer à ce gremlin de renard.
- la mange maintenant, je risque d'être
- c'est le meilleur remède que je connaisse. » Ravie, la petite cane
- petite cane, et repose-toi bien



Deux verbes particuliers : AVOIR – ÊTRE



1 Conjugue au présent.

Avoir soif	Être malade
.....
.....
.....
.....
.....
.....

2 Complète avec le verbe AVOIR ou ÊTRE au présent.

AVOIR	ÊTRE
Ils un nouvel ordinateur.	Tu souvent absent.
J'..... reçu une récompense.	Vous partis à l'étranger.
Nous beaucoup de chance.	Elle allongée.
Tu des devoirs.	Nous mécontents.
Elle des tracas.	Je trop lente.
Vous plusieurs amis.	Ils invités au restaurant.

Complète à l'indicatif présent.

Infinitifs	Verbes conjugués		
Être	Tu	Nous	Elles
Avoir	Elle	Vous	Tu
Aller	Je	Ils	Nous
Marcher	Il	Je	Vous
Sauter	Nous	Tu	Ils
Tomber	Vous	Elle	Elles
Finir	Tu	Ils	Il
Lire	Je	Vous	Elles
Rendre	Elles	Vous	Je
Boire	Nous	Ils	Tu

- À quelle personne le verbe est-il conjugué ?
Entoure la réponse exacte.

Nous collectionnons des timbres.

1^{re} pers. sing.

1^{re} pers. plur.

Ethan embarque sur la pirogue.

3^e pers. sing.

3^e pers. plur.

Tu la regardais jouer.

2^e pers. sing.

2^e pers. plur.

Les élèves étaient en récréation.

3^e pers. sing.

3^e pers. plur.

infinitifs	personnes	verbes conjugués
dire	1PS	
chanter	2PS	
faire	3PS	
avoir	1PP	
finir	2PP	
venir	3PP	
vouloir	1PS	
avoir	2PS	
être	3PS	
pouvoir	1PP	
tenir	2PP	
écouter	3PP	
faire	1PS	
aller	2PS	
préparer	3PS	

Analyse : le groupe sujet et le groupe verbal

1. Souligne le groupe sujet en bleu.

Maman prépare le repas.

Julie lit un livre.

Martin travaille en classe.

Lucas est malade.

Ce matin, Lisa joue avec Louis.

Guillaume est le frère de Matthieu.

Tous les jours, papa arrose les fleurs.

Emilie range ses vêtements.

Samedi prochain, Pascal déménagera.

Madame corrige les devoirs.

2. Dans les phrases suivantes, souligne le verbe et écris son infinitif.

Le chien ronge un os. _____

L'écureuil cache ses noix. _____

Le boulanger prépare son pain. _____

Le mécanicien répare la voiture de maman. _____

Nicolas répond aux questions. _____

David achète une moto. _____

3. Souligne le groupe sujet en bleu et le groupe du verbe en rouge.

Ce samedi, le papa d'Antoine tondra la pelouse.

Le docteur soigne les malades dans son cabinet.

Jules joue de la guitare.

Le chat joue avec la souris.

Avec précaution, Arnaud traverse la rue.

Les élèves écoutent la leçon attentivement.

Grammaire : le féminin des noms.

1. Ecris au féminin.

Le dompteur	
Le couturier	
Un ami	
Un acteur	
Un mécanicien	
Un skieur	
Le candidat	
Un cavalier	
Un cuisinier	
Un inspecteur	
Un lecteur	
Un fermier	
Le pharmacien	
Un nageur	
Un aviateur	

2. Ecris au masculin.

Une conductrice	
Une infirmière	
Une opérée	
Une acrobate	
Une danseuse	
Une boulangère	
Une magicienne	
Une ouvrière	
Une tante	
Une nièce	
Une épouse	
Une journaliste	
Une tricheuse	
Une perdante	
Une poule	

Nombres

1. Écris les nombres correspondants.

14 dizaines = _____

53 dizaines = _____

20 dizaines = _____

33 dizaines = _____

$300 + 40 + 3 =$ _____

$60 + 400 + 8 =$ _____

3 centaines + 2 dizaines = _____

35 dizaines + 6 unités = _____

7 dizaines + 4 centaines = _____

5 centaines + 3 dizaines = _____

$5 + 300 + 20 =$ _____

$200 + 5 + 60 =$ _____

2. Vrai ou faux.

- Dans un nombre à 3 chiffres, il y a toujours des centaines :
- Dans un nombre à 2 chiffres, il y a toujours des centaines :
- Dans le nombre 345, il y a 4 dizaines :
- Dans le nombre 104, il y a 1 dizaine :

3. Compte 10 points par bonne réponse.

	Réponse	Points
Quel est le chiffre à la position des unités dans 542 ?		
Combien y a-t-il de centaines dans 888 ?		
Quel chiffre est à la position des dizaines dans 456 ?		
Vrai ou faux ? 2 centaines = 200 unités		
Vrai ou faux ? 63 dizaines = 630 unités		
Combien y a-t-il d'unités dans 7 centaines ?		
Combien y a-t-il d'unités dans 30 dizaines ?		
Vrai ou faux ? 4 centaines = 40 dizaines		
Quel chiffre est à la position des centaines dans 783 ?		
5 centaines + 5 unités + 8 dizaines =		
	<u>TOTAL</u>	/100

Liens logiques

La maman de Louis a acheté 8 œufs décoratifs pour 24 € et 6 sachets d'œufs en chocolat pour 12€.

Combien coûte un œuf décoratif ?

Combien coûte un sachet d'œufs en chocolat ?

Je cherche	Je sais	Je trouve et je communique

Calcul mental : des additions et des soustractions

1. Effectue directement.

$300 + 500 = 800$

$5 + 600 = 605$

$628 + 40 = 668$

$740 + 40 = 780$

$85 + 910 = 995$

$84 + 16 = 100$

$7 + 302 = 309$

$70 + 320 = 390$

$541 + 40 = 581$

$622 + 32 = 654$

$845 - 20 = 825$

$658 - 5 = 653$

$100 - 48 = 52$

$100 - 26 = 74$

$758 - 7 = 751$

$340 - 100 = 240$

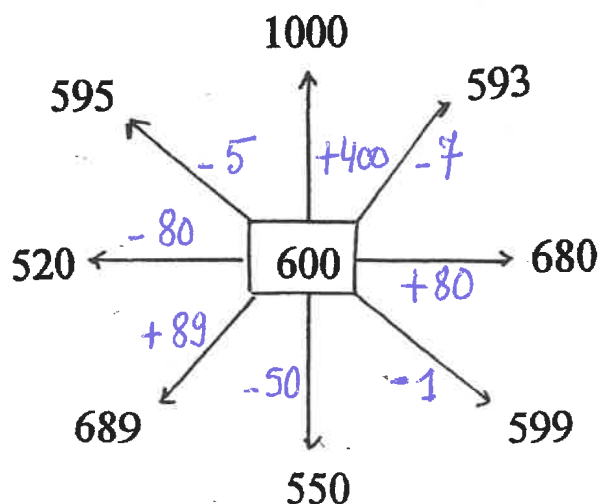
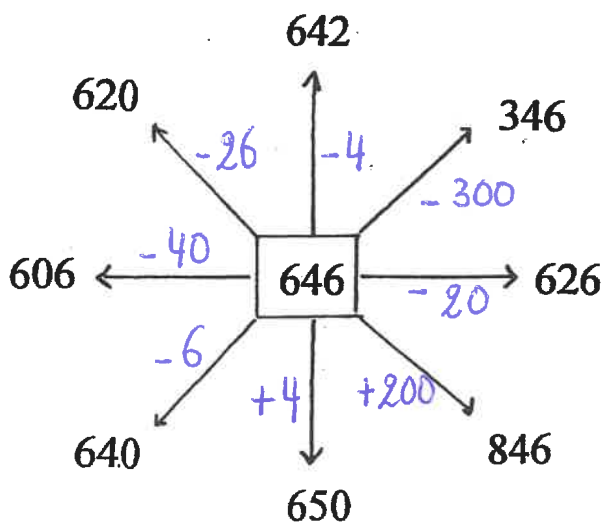
$754 - 30 = 724$

$459 - 3 = 456$

$335 - 10 = 325$

$458 - 25 = 433$

2. Complète.



Corrigé

Opérations : CDU \pm DU avec passage par la centaine et par la dizaine. (voir cahier)

$$1) 438 + 84 = \overset{518}{(438 + 80) + 4} = 522$$

70 10 2 2

$$2) 576 + 67 = \overset{636}{(576 + 60) + 7} = 643$$

30 30 4 3

$$3) 924 - 38 = \overset{894}{(924 - 30) - 8} = 886$$

20 10 4 4

$$4) 431 - 96 = \overset{341}{(431 - 90) - 6} = 335$$

30 60 1 5

$$5) 164 + 58 = \overset{214}{(164 + 50) + 8} = 222$$

40 10 6 2

$$6) 659 + 75 = \overset{729}{(659 + 70) + 5} = 734$$

50 20 1 4

$$7) 547 - 78 = \overset{477}{(547 - 70) - 8} = 469$$

40 30 7 1

$$8) 872 - 85 = \overset{792}{(872 - 80) - 5} = 787$$

70 10 2 3

$$9) 387 + 46 = \overset{427}{(387 + 40) + 6} = 433$$

20 20 3 3

$$10) 713 - 39 = \overset{683}{(713 - 30) - 9} = 674$$

10 20 3 6

- 4 Karim est allé écouter un concert de musique classique. Le concert a duré 2 heures et s'est terminé à 21 h 30. À quelle heure le concert a-t-il commencé ?

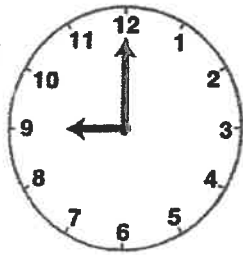
$$21\text{h}30 - 2\text{h} = 19\text{h}30$$

Le concert a commencé à 19h30.




- 5 Tom regarde la pendule au début et à la fin de son dessin animé préféré. Ecris l'heure qu'il voit indiquée sur l'horloge.

heure de début
du dessin
animé



9 h 00



heure de fin
du dessin
animé

9 h 30

Combien de temps a duré son dessin animé ?

$$9\text{h} + 30\text{ min} = 9\text{h}30$$

Son dessin animé a duré 30 minutes.

- 6 Il est 6 h 57. L'avion de Tom décolle à 7 h. Combien de minutes Tom va-t-il encore attendre ?

$$6\text{h}57 + 3\text{ min} = 7\text{h}$$


Tom va attendre 3 minutes.

Lecture : corrigé

Voici les trois paragraphes d'une histoire. Les phrases de chaque paragraphe sont mélangées. Remets-les dans l'ordre en indiquant un numéro dans les

La maligne petite cane (1)

- 3 Elle se sent en pleine forme. En chemin, elle
 5 la regarde d'un air gourmand. « Quelle jolie petite cane », se dit
 1 Ce jour-là, le ciel est tout bleu et le soleil brille. Madame la cane
 4 rencontre Goupil, le renard qui
 6 le renard. « Comme elle est appétissante ! Je la croquerais bien. »
 2 met son beau chapeau, prend son ombrelle et part en promenade.




La maligne petite cane (2)

- 7 quel médicament dois-je prendre pour me soulager ? »
 1 La petite cane remarque que le renard la regarde avec envie et lui dit :
 6 même envie de vomir. Selon vous,
 2 « Monsieur Goupil, quel plaisir de vous rencontrer.
 5 aujourd'hui ; j'ai dû avaler un ver de terre pas très frais. J'ai
 3 Vous qui êtes si intelligent, peut-être
 4 pourriez-vous me conseiller. Je me sens très mal

La maligne petite cane (3)

- 6 rentre chez elle, toute contente du bon tour qu'elle
 1 « Quelle horreur ! » s'écrie le renard. « Si je
 3 malade aussi. Rentre chez toi,
 7 vient de jouer à ce gremlin de renard.
 2 la mange maintenant, je risque d'être
 5 c'est le meilleur remède que je connaisse. » Ravie, la petite cane
 4 petite cane, et repose-toi bien



Deux verbes particuliers :

AVOIR - ÊTRE



1 Conjugue au présent.

Avoir soif	Être malade
J' ai.	Je suis.
Tu as.	Tu es.
Il a.	Elle est.
Nous avons.	Nous sommes.
Vous avez.	Vous êtes.
Elles ont.	Ils sont.

2 Complète avec le verbe AVOIR ou ÊTRE au présent.

AVOIR	ÊTRE
Ils ... ont ... un nouvel ordinateur.	Tu ... es ... souvent absent.
J' ... ai ... reçu une récompense.	Vous ... êtes ... partis à l'étranger.
Nous ... avons ... beaucoup de chance.	Elle ... est ... allongée.
Tu ... as ... des devoirs.	Nous ... sommes ... mécontents.
Elle ... a ... des tracas.	Je ... suis ... trop lente.
Vous ... avez ... plusieurs amis.	Ils ... sont ... invités au restaurant.

Infinitifs	Verbes conjugués		
Être	Tu <i>es</i>	Nous <i>sommes</i>	Elles <i>sont</i>
Avoir	Elle <i>a</i>	Vous <i>avez</i>	Tu <i>as</i>
Aller	Je <i>vais</i>	Ils <i>vont</i>	Nous <i>allons</i>
Marcher	Il <i>marche</i>	Je <i>marche</i>	Vous <i>marchez</i>
Sauter	Nous <i>sautons</i>	Tu <i>sautes</i>	Ils <i>sautent</i>
Tomber	Vous <i>tombez</i>	Elle <i>tombe</i>	Elles <i>tombent</i>
Finir	Tu <i>finis</i>	Ils <i>finissent</i>	Il <i>finit</i>
Lire	Je <i>lis</i>	Vous <i>lisez</i>	Elles <i>lisent</i>
Rendre	Elles <i>rendent</i>	Vous <i>rendez</i>	Je <i>rends</i>
Boire	Nous <i>buvons</i>	Ils <i>boivent</i>	Tu <i>bois</i>

À quelle personne le verbe est-il conjugué ?
Entoure la réponse exacte.

- Nous collectionnons des timbres. 1^{re} pers. sing. 1^{re} pers. plur.
- Ethan embarque sur la pirogue. 3^e pers. sing. 3^e pers. plur.
- Tu la regardais jouer. 2^e pers. sing. 2^e pers. plur.
- Les élèves étaient en récréation. 3^e pers. sing. 3^e pers. plur.

infinitifs	personnes	verbes conjugués
dire	1PS	je dis
chanter	2PS	tu chantes
faire	3PS	il fait
avoir	1PP	nous avons
finir	2PP	vous finissez
venir	3PP	elles viennent
vouloir	1PS	je veux
avoir	2PS	tu as
être	3PS	elle est
pouvoir	1PP	nous pouvons
tenir	2PP	vous tenez
écouter	3PP	ils écoutent
faire	1PS	je fais
aller	2PS	tu vas
préparer	3PS	il prépare

Analyse : le groupe sujet et le groupe verbal (Correctif)

1. Souligne le groupe sujet en bleu.

Maman prépare le repas.

Julie lit un livre.

Martin travaille en classe.

Lucas est malade.

Ce matin, Lisa joue avec Louis.

Guillaume est le frère de Matthieu.

Tous les jours, papa arrose les fleurs.

Emilie range ses vêtements.

Samedi prochain, Pascal déménagera.

Madame corrige les devoirs.

2. Dans les phrases suivantes, souligne le verbe et écris son infinitif.

Le chien ronge un os. _____ RONGER _____

L'écureuil cache ses noisettes. _____ CACHER _____

Le boulanger prépare son pain. _____ PREPARER _____

Le mécanicien répare la voiture de maman. _____ REPARER _____

Nicolas répond aux questions. _____ REPONDRE _____

David achète une moto. _____ ACHETER _____

3. Souligne le groupe sujet en bleu et le groupe du verbe en rouge.

Ce samedi, le papa d'Antoine^{GS} tondra la pelouse^{GV},

Le docteur^{GS} soigne les malades^{GV} dans son cabinet.

Jules^S joue de la guitare^{GV},

Le chat^{GS} joue^V avec la souris.

Avec précaution, Arnaud^S traverse la rue^{GV}.

Les élèves^{GS} écoutent la leçon^{GV} attentivement.

Grammaire : le féminin des noms.(Correctif)

1. Ecris au féminin.

Le dompteur	La dompteuse
Le couturier	La couturière
Un ami	Une amie
Un acteur	Une actrice
Un mécanicien	Une mécanicienne
Un skieur	Une skieuse
Le candidat	La candidate
Un cavalier	Une cavalière
Un cuisinier	Une cuisinière
Un inspecteur	Une inspectrice
Un lecteur	Une lectrice
Un fermier	Une fermière
Le pharmacien	La pharmacienne
Un nageur	Une nageuse
Un aviateur	Une aviatrice

2. Ecris au masculin.

Une conductrice	Un conducteur
Une infirmière	Un infirmier
Une opérée	Un opéré
Une acrobate	Un acrobate
Une danseuse	Un danseur
Une boulangère	Un boulanger
Une magicienne	Un magicien
Une ouvrière	Un ouvrier
Une tante	Un oncle
Une nièce	Un neveu
Une épouse	Un époux
Une journaliste	Un journaliste
Une tricheuse	Un tricheur
Une perdante	Un perdant
Une poule	Un coq

Nombres (Correctif)

1. Écris les nombres correspondants.

$14 \text{ dizaines} = \underline{\quad\quad} 140 \underline{\quad\quad}$

$53 \text{ dizaines} = \underline{\quad\quad} 530 \underline{\quad\quad}$

$20 \text{ dizaines} = \underline{\quad\quad} 200 \underline{\quad\quad}$

$33 \text{ dizaines} = \underline{\quad\quad} 330 \underline{\quad\quad}$

$300 + 40 + 3 = \underline{\quad\quad} 343 \underline{\quad\quad}$

$60 + 400 + 8 = \underline{\quad\quad} 468 \underline{\quad\quad}$

$3 \text{ centaines} + 2 \text{ dizaines} = \underline{\quad\quad} 320 \underline{\quad\quad}$

$35 \text{ dizaines} + 6 \text{ unités} = \underline{\quad\quad} 356 \underline{\quad\quad}$

$7 \text{ dizaines} + 4 \text{ centaines} = \underline{\quad\quad} 470 \underline{\quad\quad}$

$5 \text{ centaines} + 3 \text{ dizaines} = \underline{\quad\quad} 530 \underline{\quad\quad}$

$5 + 300 + 20 = \underline{\quad\quad} 325 \underline{\quad\quad}$

$200 + 5 + 60 = \underline{\quad\quad} 265 \underline{\quad\quad}$

2. Vrai ou faux.

- Dans un nombre à 3 chiffres, il y a toujours des centaines :V.....
- Dans un nombre à 2 chiffres, il y a toujours des centaines :F...
- Dans le nombre 345, il y a 4 dizaines :V.....
- Dans le nombre 104, il y a 1 dizaine :F.....

3. Compte 10 points par bonne réponse.

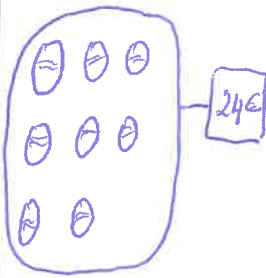

	Réponse	Points
Quel est le chiffre à la position des unités dans 542 ?	2	10
Combien y a-t-il de centaines dans 888 ?	8	10
Quel chiffre est à la position des dizaines dans 456 ?	5	10
Vrai ou faux ? 2 centaines = 200 unités	V	10
Vrai ou faux ? 63 dizaines = 630 unités	V	10
Combien y a-t-il d'unités dans 7 centaines ?	700	10
Combien y a-t-il d'unités dans 30 dizaines ?	300	10
Vrai ou faux ? 4 centaines = 40 dizaines	V	10
Quel chiffre est à la position des centaines dans 783 ?	7	10
5 centaines + 5 unités + 8 dizaines =	585	10
	TOTAL	100/100

Liens logiques (Correctif)

La maman de Louis a acheté 8 œufs décoratifs pour 24 € et 6 sachets d'œufs en chocolat pour 12€.

Combien coûte un œuf décoratif ?

Combien coûte un sachet d'œufs en chocolat ?

Je cherche	Je sais	Je trouve et je communique
Combien coûte un œuf décoratif ?		$24 : 8 = 3\text{€}$ Un œuf décoratif coûte 3 €
Combien coûte un sachet d'œuf en chocolat ?		$12 : 6 = 2\text{€}$ Un sachet d'œuf en chocolat coûte 2 €